




Caderno de PROVA

-  25 de janeiro
-  2h de duração*
-  10 questões



Edital 002
Nível Médio
Instrutor de Árbitro

Informações

A Prova escrita é composta por questões objetivas de conhecimento geral, questões de conhecimento específico e um plano de aula, conforme o caso.

Cada questão apresenta 4 (quatro) alternativas, sendo uma única correta.

A Prova Escrita consta de um caderno com as questões e um cartão resposta, o candidato é responsável pela conferência dos dados.

Ocorrendo qualquer divergência deve ser comunicada imediatamente ao fiscal de sala.

Importante

Para o preenchimento do cartão-resposta deverá utilizar caneta esferográfica de tinta preta ou azul;

O caderno de questões e o cartão resposta só poderão ser entregues 1 (uma) hora após o início da prova;

Os três (3) últimos candidatos de cada sala só poderão entregar a prova e o cartão resposta ao mesmo tempo;

No final do caderno de prova, há espaço para registrar o gabarito e destacar;

Ao encerrar a prova entregue para o fiscal de sua sala, o cartão resposta e o caderno das questões devidamente assinados;

A interpretação das questões é parte integrante da prova, não sendo permitidas perguntas aos fiscais.

Nome: _____

Assinatura: _____

CONHECIMENTOS GERAIS
(5 questões)

1. O Ministério do Meio Ambiente, em junho de 2009, lançou campanha para o consumo consciente de sacolas plásticas, que já atingem, aproximadamente, o número alarmante de 12 bilhões por ano no Brasil. Veja o slogan dessa campanha:



O possível êxito dessa campanha ocorrerá porque:

- I. se cumpriu a meta de emissão zero de gás carbônico estabelecida pelo Programa das Nações Unidas para o Meio Ambiente, revertendo o atual quadro de elevação das médias térmicas globais.
- II. deixaram de ser empregados, na confecção de sacolas plásticas, materiais oxibiodegradáveis e os chamados bioplásticos que, sob certas condições de luz e de calor, se fragmentam.
- III. foram adotadas, por parcela da sociedade brasileira, ações comprometidas com mudanças em seu modo de produção e de consumo, atendendo aos objetivos preconizados pela sustentabilidade.
- IV. houve redução tanto no quantitativo de sacolas plásticas descartadas indiscriminadamente no ambiente, como também no tempo de decomposição de resíduos acumulados em lixões e aterros sanitários.

Estão CORRETAS somente as afirmativas:

- a. () I e II.
- b. () I e III.
- c. () II e III.
- d. () III e IV.

2. O Brasil tem assistido a um debate que coloca, frente a frente, como polos opostos, o desenvolvimento econômico e a conservação ambiental. Algumas iniciativas merecem considerações, porque podem agravar ou desencadear problemas ambientais de diferentes ordens de grandeza.

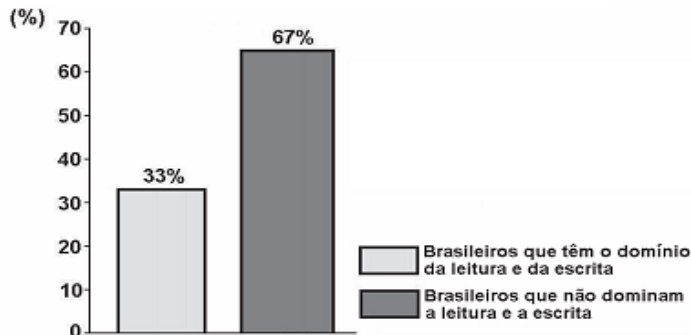
Entre essas iniciativas e suas consequências, é INCORRETO afirmar que:

- a. () a construção de obras previstas pelo PAC (Programa de Aceleração do Crescimento) tem levado à redução dos prazos necessários aos estudos de impacto ambiental, o que pode interferir na sustentabilidade do projeto.
- b. () a construção de grandes centrais hidrelétricas nas bacias do Sudeste e do Sul gera mais impactos ambientais do que nos grandes rios da Amazônia, nos quais o volume de água, o relevo e a baixa densidade demográfica reduzem os custos da obra e o passivo ambiental.
- c. () a exploração do petróleo encontrado na plataforma submarina pelo Brasil terá, ao lado dos impactos positivos na economia e na política, consequências ambientais negativas, se persistir o modelo atual de consumo de combustíveis fósseis.
- d. () a preocupação mais voltada para a floresta e os povos amazônicos coloca em alerta os ambientalistas, ao deixar em segundo plano as ameaças aos demais biomas.

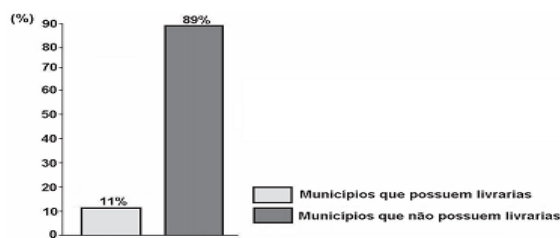
3.

Leia os gráficos:

**Gráfico I:
Domínio da leitura e escrita pelos
brasileiros (em %)**



**Gráfico II:
Municípios brasileiros que possuem
livrarias (em %)**



Indicador Nacional de Alfabetismo Funcional - INAF, 2005.

Relacione esses gráficos às seguintes informações:

O Ministério da Cultura divulgou, em 2008, que o Brasil não só produz mais da metade dos livros do continente americano, como também tem parque gráfico atualizado, excelente nível de produção editorial e grande quantidade de papel. Estima-se que 73% dos livros do país estejam nas mãos de 16% da população.

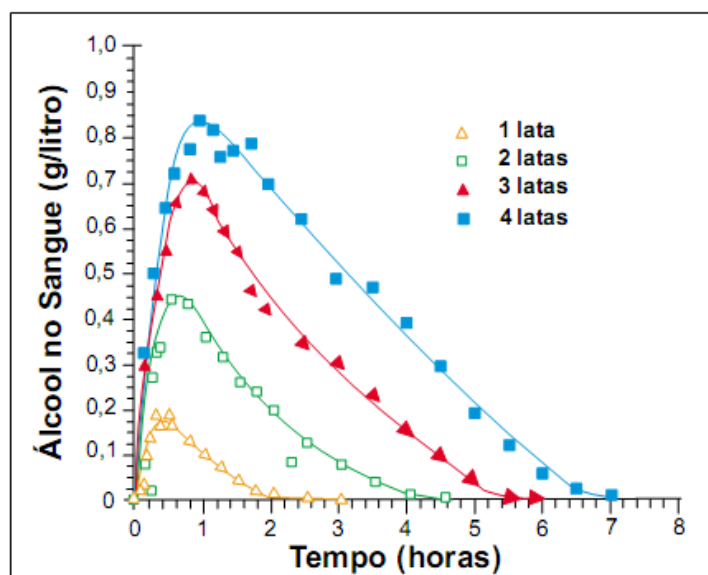
Para melhorar essa situação, é necessário que o Brasil adote políticas públicas capazes de conduzir o país à formação de uma sociedade leitora.

Qual das seguintes ações NÃO contribui para a formação de uma sociedade leitora?

- a. () Desaceleração da distribuição de livros didáticos para os estudantes das escolas públicas, pelo MEC, porque isso enriquece editoras e livreiros.
- b. () Exigência de acervo mínimo de livros, impressos e eletrônicos, com gêneros diversificados, para as bibliotecas escolares e comunitárias.

- c. () Programas de formação continuada de professores, capacitando-os para criar um vínculo significativo entre o estudante e o texto.
- d. () Programas, de iniciativa pública e privada, garantindo que os livros migrem das estantes para as mãos dos leitores.

4. A legislação de trânsito brasileira considera que o condutor de um veículo está dirigindo alcoolizado quando o teor alcoólico de seu sangue excede 0,6 gramas de álcool por litro de sangue. O gráfico abaixo mostra o processo de absorção e eliminação do álcool quando um indivíduo bebe, em um curto espaço de tempo, de 1 a 4 latas de cerveja.



(Fonte: National Health Institute, Estados Unidos)

Considere as afirmativas a seguir:

- I - O álcool é absorvido pelo organismo muito mais lentamente do que é eliminado.
- II - Uma pessoa que vá dirigir imediatamente após a ingestão da bebida pode consumir, no máximo, duas latas de cerveja.
- III - Se uma pessoa toma rapidamente quatro latas de cerveja, o álcool contido na bebida só é completamente eliminado após se passarem cerca de 7 horas da ingestão.

Está (ão) **correta(s)** a(s) afirmativa(s):

- a. () II, apenas.
- b. () I e II, apenas.
- c. () I e III, apenas.
- d. () II e III, apenas.

5. Leia a charge:



www.charges.com.br, acessado em 15 set. 2009.

Há relação entre o que é mostrado no gráfico e na charge?

- a. () Não, pois a faixa etária acima dos 18 anos é aquela responsável pela disseminação da violência urbana nas grandes cidades brasileiras.
- b. () Não, pois o crescimento do número de crianças e adolescentes que trabalham diminui o risco de sua exposição aos perigos da rua.
- c. () Sim, pois ambos se associam ao mesmo contexto de problemas socioeconômicos e culturais vigentes no país.
- d. () Sim, pois o crescimento do trabalho infantil no Brasil faz crescer o número de crianças envolvidas com o crime organizado.

CONHECIMENTOS ESPECÍFICOS

(5 questões)

6. Assinale V para verdadeiro e F para falso sobre as regras do Futebol:

- () O jogo será disputado por dois times, cada um deles formado por 11 jogadores(as) mais um goleiro(a);
- () As partidas terão dois tempos de 45 minutos e o arbitro poderá acrescentar o tempo que tinha sido perdido em consequência de acidentes ou outros motivos.
- () A bola estará em jogo se permanecer em campo depois de chocar-se com as traves, as bandeirinhas, o juiz ou os fiscais de linha;
- () Quando a bola transpuser totalmente a linha de fundo ou linha lateral e tenha sido tocada por um(a) jogador(a) da equipe defensora, será cobrado um tiro de canto;
- () Quando a bola ultrapassar a linha lateral, por terra ou ar, será posta em jogo por um(a) adversário(a) daquele que a tocou por último.

A sequência correta é:

- a. () F – V – V – F – V;
- b. () F – V – F – F – V;
- c. () V – V – F – F – V;
- d. () V – V – F – F – V.

7. Em relação às funções dos árbitros, assinale a alternativa INCORRETA:

- a. () O árbitro deverá cuidar da aplicação das regras e resolver todos os casos duvidosos;
- b. () Cuidar da disciplina dos atletas em campo;
- c. () Durante a partida de futebol o árbitro deve permanecer sempre dentro do campo;
- d. () Geralmente os árbitros são designados, nomeados pelas organizações ou associações responsáveis.

8. Assinale a alternativa correta: Durante um jogo de futebol, o atacante, corria em direção ao campo adversário de posse da bola, quando a mesma estourou. Nesse caso, como o juiz deve proceder:
- a. A bola será trocada e haverá disputa de par ou ímpar para saber quem terá a posse de bola, iniciando novamente a partida.
 - b. O jogo será encerrado.
 - c. O jogo será paralisado e a partida será reiniciada com uma nova bola. A posse de bola será do time do atacante e o goleiro sairá com a bola.
 - d. O jogo será paralisado e a partida será reiniciada com uma nova bola no local onde a primeira se danificou. O atacante que conduzia a bola terá a posse da mesma.
9. Em relação às infrações descritas abaixo e a aplicação de cartões amarelo ou vermelho assinale a alternativa CORRETA:
- I. Não respeitar a distância regulamentar em um tiro livre ou tiro de canto;
 - II. Cuspir no rosto do(a) árbitro(a);
 - III. Dar socos no abdômen do(a) adversário(a).
- a. Os(As) jogadores(as) das infrações I, II e III deverão ser punidos(as) com cartão vermelho.
 - b. Os(As) jogadores(as) das infrações I e II deverão ser punidos(as) com cartão amarelo; o(a) jogador(a) da infrações III deverá ser punido(a) com cartão vermelho.
 - c. O jogador da infração I deverá ser punido com cartão amarelo; os jogadores das infrações II e III deverão ser punidos com cartão vermelho.
 - d. Os(As) jogadores(as) das infrações I, II e III deverão ser punidos(as) com cartão amarelo.

10. Em relação as regras de futebol, assinale a alternativa INCORRETA:

- a. () Qualquer jogador(a) poderá trocar de posição com o goleiro, desde que o árbitro seja informado previamente e a troca se efetue durante uma paralisação do jogo;
- b. () Um(a) jogador(a) estará em posição de impedimento quando se encontrar mais próximo da linha de meta adversária do que a bola e o penúltimo adversário;
- c. () Os árbitros assistentes deverão posicionar-se à margem externa da área penal e controlar que o goleiro não toque na bola com suas mãos fora dessa área;
- d. () Qualquer jogador(a) poderá trocar de posição com o goleiro(a), em uma paralisação ou mesmo durante uma partida, sem necessidade, neste último caso, de informar ao árbitro tal mudança.

_____ (destaque aqui) _____

ANOTAÇÃO DAS RESPOSTAS									
1	2	3	4	5	6	7	8	9	10