




Caderno de PROVA

-  25 de janeiro
-  2h de duração*
-  10 questões



Edital 001
Ensino Médio
Instrutor de Coral

Informações

A Prova escrita é composta por questões objetivas de conhecimento geral, questões de conhecimento específico e um plano de aula, conforme o caso.

Cada questão apresenta 4 (quatro) alternativas, sendo uma única correta.

A Prova Escrita consta de um caderno com as questões e um cartão resposta, o candidato é responsável pela conferência dos dados.

Ocorrendo qualquer divergência deve ser comunicada imediatamente ao fiscal de sala.

Importante

Para o preenchimento do cartão-resposta deverá utilizar caneta esferográfica de tinta preta ou azul;

O caderno de questões e o cartão resposta só poderão ser entregues 1 (uma) hora após o início da prova;

Os três (3) últimos candidatos de cada sala só poderão entregar a prova e o cartão resposta ao mesmo tempo;

No final do caderno de prova, há espaço para registrar o gabarito e destacar;

Ao encerrar a prova entregue para o fiscal de sua sala, o cartão resposta e o caderno das questões devidamente assinados;

A interpretação das questões é parte integrante da prova, não sendo permitidas perguntas aos fiscais.

Nome: _____

Assinatura: _____

CONHECIMENTOS GERAIS**(5 questões)**

1. O Ministério do Meio Ambiente, em junho de 2009, lançou campanha para o consumo consciente de sacolas plásticas, que já atingem, aproximadamente, o número alarmante de 12 bilhões por ano no Brasil. Veja o slogan dessa campanha:



O possível êxito dessa campanha ocorrerá porque:

- I. se cumpriu a meta de emissão zero de gás carbônico estabelecida pelo Programa das Nações Unidas para o Meio Ambiente, revertendo o atual quadro de elevação das médias térmicas globais.
- II. deixaram de ser empregados, na confecção de sacolas plásticas, materiais oxibiodegradáveis e os chamados bioplásticos que, sob certas condições de luz e de calor, se fragmentam.
- III. foram adotadas, por parcela da sociedade brasileira, ações comprometidas com mudanças em seu modo de produção e de consumo, atendendo aos objetivos preconizados pela sustentabilidade.
- IV. houve redução tanto no quantitativo de sacolas plásticas descartadas indiscriminadamente no ambiente, como também no tempo de decomposição de resíduos acumulados em lixões e aterros sanitários.

Estão **CORRETAS** somente as afirmativas:

- a. () I e II.
- b. () I e III.
- c. () II e III.
- d. () III e IV.

2. O Brasil tem assistido a um debate que coloca, frente a frente, como polos opostos, o desenvolvimento econômico e a conservação ambiental. Algumas iniciativas merecem considerações, porque podem agravar ou desencadear problemas ambientais de diferentes ordens de grandeza.

Entre essas iniciativas e suas consequências, é INCORRETO afirmar que:

- a. () a construção de obras previstas pelo PAC (Programa de Aceleração do Crescimento) tem levado à redução dos prazos necessários aos estudos de impacto ambiental, o que pode interferir na sustentabilidade do projeto.
- b. () a construção de grandes centrais hidrelétricas nas bacias do Sudeste e do Sul gera mais impactos ambientais do que nos grandes rios da Amazônia, nos quais o volume de água, o relevo e a baixa densidade demográfica reduzem os custos da obra e o passivo ambiental.
- c. () a exploração do petróleo encontrado na plataforma submarina pelo Brasil terá, ao lado dos impactos positivos na economia e na política, consequências ambientais negativas, se persistir o modelo atual de consumo de combustíveis fósseis.
- d. () a preocupação mais voltada para a floresta e os povos amazônicos coloca em alerta os ambientalistas, ao deixar em segundo plano as ameaças aos demais biomas.

3.

Leia os gráficos:

Gráfico I:
Domínio da leitura e escrita pelos
brasileiros (em %)

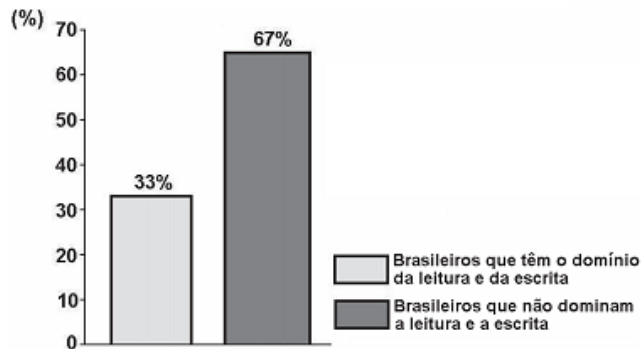
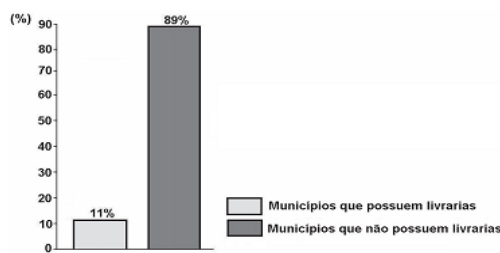


Gráfico II:
Municípios brasileiros que possuem
livrarias (em %)



Indicador Nacional de Alfabetismo Funcional - INAF, 2005.

Relacione esses gráficos às seguintes informações:

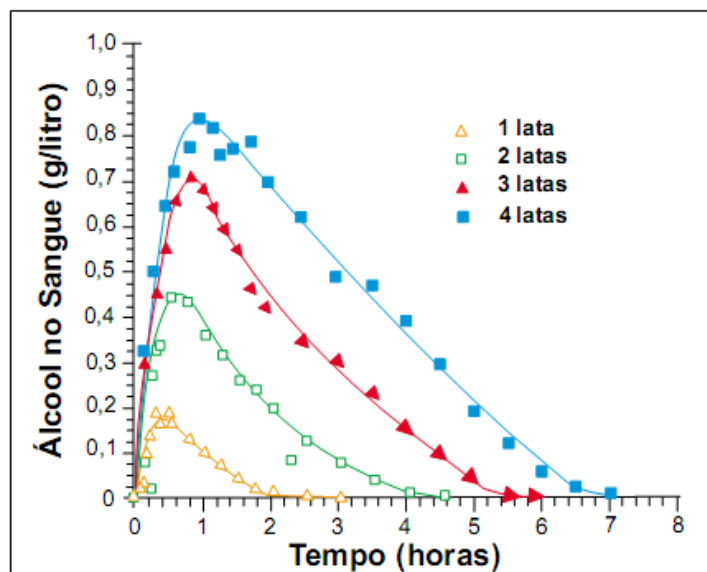
O Ministério da Cultura divulgou, em 2008, que o Brasil não só produz mais da metade dos livros do continente americano, como também tem parque gráfico atualizado, excelente nível de produção editorial e grande quantidade de papel. Estima-se que 73% dos livros do país estejam nas mãos de 16% da população.

Para melhorar essa situação, é necessário que o Brasil adote políticas públicas capazes de conduzir o país à formação de uma sociedade leitora.

Qual das seguintes ações **NÃO** contribui para a formação de uma sociedade leitora?

- a. () Desaceleração da distribuição de livros didáticos para os estudantes das escolas públicas, pelo MEC, porque isso enriquece editoras e livreiros.
- b. () Exigência de acervo mínimo de livros, impressos e eletrônicos, com gêneros diversificados, para as bibliotecas escolares e comunitárias.
- c. () Programas de formação continuada de professores, capacitando-os para criar um vínculo significativo entre o estudante e o texto.
- d. () Programas, de iniciativa pública e privada, garantindo que os livros migrem das estantes para as mãos dos leitores.

4. A legislação de trânsito brasileira considera que o condutor de um veículo está dirigindo alcoolizado quando o teor alcoólico de seu sangue excede 0,6 gramas de álcool por litro de sangue. O gráfico abaixo mostra o processo de absorção e eliminação do álcool quando um indivíduo bebe, em um curto espaço de tempo, de 1 a 4 latas de cerveja.



(Fonte: National Health Institute, Estados Unidos)

Considere as afirmativas a seguir:

- I - O álcool é absorvido pelo organismo muito mais lentamente do que é eliminado.
- II - Uma pessoa que vá dirigir imediatamente após a ingestão da bebida pode consumir, no máximo, duas latas de cerveja.
- III - Se uma pessoa toma rapidamente quatro latas de cerveja, o álcool contido na bebida só é completamente eliminado após se passarem cerca de 7 horas da ingestão.

Está (ão) **correta(s)** a(s) afirmativa(s):

- a. () II, apenas.
- b. () I e II, apenas.
- c. () I e III, apenas.
- d. () II e III, apenas.

5. Leia a charge:



www.charges.com.br, acessado em 15 set. 2009.

Há relação entre o que é mostrado no gráfico e na charge?

- a. () Não, pois a faixa etária acima dos 18 anos é aquela responsável pela disseminação da violência urbana nas grandes cidades brasileiras.
- b. () Não, pois o crescimento do número de crianças e adolescentes que trabalham diminui o risco de sua exposição aos perigos da rua.
- c. () Sim, pois ambos se associam ao mesmo contexto de problemas socioeconômicos e culturais vigentes no país.
- d. () Sim, pois o crescimento do trabalho infantil no Brasil faz crescer o número de crianças envolvidas com o crime organizado.

CONHECIMENTOS ESPECÍFICOS**(5 questões)**

6. Um coral tradicional se forma a partir da utilização de quatro vozes básicas que são: o soprano, o contralto, o tenor e o baixo. Sendo assim, cada uma dessas vozes tem os seus limites de extensão que giram em torno de uma oitava mais uma quinta. A partir daí: a voz que começa no MI 1 e vai até o DO 3 é a voz do:

- a. () Soprano.
- b. () Tenor.
- c. () Baixo.
- d. () Contralto.

7. Qual a diferença entre tessitura vocal e extensão vocal?

- a) () A tessitura vocal corresponde ao número de notas da mais grave até a mais aguda que o indivíduo consegue produzir com qualidade vocal, onde se encontra a melhor sonoridade e emissão mais natural. Enquanto a extensão vocal refere-se ao número de notas, da mais grave a mais aguda que um indivíduo consegue produzir, não importando a qualidade vocal.
- b) () A tessitura vocal corresponde ao número de acordes do mais grave até o mais agudo que o indivíduo consegue produzir com qualidade vocal, onde se encontra a melhor sonoridade e emissão mais natural. Enquanto a extensão vocal refere-se ao número de acordes da mais grave a mais aguda, que um indivíduo consegue produzir, não importando a qualidade vocal.
- c) () A tessitura vocal corresponde ao número de claves da mais grave até a mais aguda que o indivíduo consegue produzir com qualidade vocal, onde se encontra a melhor sonoridade e emissão mais natural. Enquanto a extensão vocal refere-se ao número de claves, da mais grave a mais aguda que um indivíduo consegue produzir, não importando a qualidade vocal.
- d) () A extensão vocal corresponde ao número de notas da mais grave até a mais aguda que o indivíduo consegue produzir com qualidade vocal, onde se encontra a melhor sonoridade e emissão mais natural. Enquanto a tessitura vocal refere-se ao número de notas da mais grave, a mais aguda que um indivíduo consegue produzir, não importando a qualidade vocal.

8. O aparelho fonador é dividido em três sistemas que são fisiologicamente responsáveis pela produção dos sons. São eles:
- a. () Sistema Articulatorio, Sistema Fonatorio e Sistema Respiratorio.
 - b. () Sistema Respiratorio, Sistema Articulatorio e Sistema Cardiovascular.
 - c. () Sistema Respiratorio, Sistema Fonatorio e Sistema Ventricular.
 - d. () Sistema Fonatorio, Sistema Articulatorio e Sistema Solar.
9. Na tipologia de acordes, as tríades são subdivididas em quatro tipos: Tríade maior, Tríade menor, Tríade aumentada e Tríade diminuta. A Tríade que é formada pela sobreposição de duas terças menores é:
- a. () Tríade maior.
 - b. () Tríade menor.
 - c. () Tríade diminuta.
 - d. () Tríade aumentada.
10. Os metais é a família dos instrumentos de sopro onde o som é produzido por uma coluna de ar que é posta em vibração pelos lábios do músico comprimidos contra um bocal em forma de taça ou funil. São alguns deles:
- a. () Violino, Viola, Violoncelo e Violão.
 - b. () Trompete, Saxofone, Tuba e Clarinete.
 - c. () Trombone, Tuba, Trompete e Saxofone.
 - d. () Trompete, Trompa, Trombone e Tuba.

_____ (destaque aqui) _____

ANOTAÇÃO DAS RESPOSTAS									
1	2	3	4	5	6	7	8	9	10