



Caderno de PROVA

 25 de janeiro

 2h de duração*

 10 questões



Edital 002

Nível Médio

Orientador de Artes Marciais

Informações

A Prova escrita é composta por questões objetivas de conhecimento geral, questões de conhecimento específico e um plano de aula, conforme o caso.

Cada questão apresenta 4 (quatro) alternativas, sendo uma única correta.

A Prova Escrita consta de um caderno com as questões e um cartão resposta, o candidato é responsável pela conferência dos dados.

Ocorrendo qualquer divergência deve ser comunicada imediatamente ao fiscal de sala.

Importante

Para o preenchimento do cartão-resposta deverá utilizar caneta esferográfica de tinta preta ou azul;

O caderno de questões e o cartão resposta só poderão ser entregues 1 (uma) hora após o início da prova;

Os três (3) últimos candidatos de cada sala só poderão entregar a prova e o cartão resposta ao mesmo tempo;

No final do caderno de prova, há espaço para registrar o gabarito e destacar;

Ao encerrar a prova entregue para o fiscal de sua sala, o cartão resposta e o caderno das questões devidamente assinados;

A interpretação das questões é parte integrante da prova, não sendo permitidas perguntas aos fiscais.

Nome: _____

Assinatura: _____

CONHECIMENTOS GERAIS

(5 questões)

1. O Ministério do Meio Ambiente, em junho de 2009, lançou campanha para o consumo consciente de sacolas plásticas, que já atingem, aproximadamente, o número alarmante de 12 bilhões por ano no Brasil. Veja o slogan dessa campanha:



O possível êxito dessa campanha ocorrerá porque:

- I. se cumpriu a meta de emissão zero de gás carbônico estabelecida pelo Programa das Nações Unidas para o Meio Ambiente, revertendo o atual quadro de elevação das médias térmicas globais.
- II. deixaram de ser empregados, na confecção de sacolas plásticas, materiais oxibiodegradáveis e os chamados bioplásticos que, sob certas condições de luz e de calor, se fragmentam.
- III. foram adotadas, por parcela da sociedade brasileira, ações comprometidas com mudanças em seu modo de produção e de consumo, atendendo aos objetivos preconizados pela sustentabilidade.
- IV. houve redução tanto no quantitativo de sacolas plásticas descartadas indiscriminadamente no ambiente, como também no tempo de decomposição de resíduos acumulados em lixões e aterros sanitários.

Estão CORRETAS somente as afirmativas:

- a. () I e II.
- b. () I e III.
- c. () II e III.
- d. () III e IV.

2. O Brasil tem assistido a um debate que coloca, frente a frente, como polos opostos, o desenvolvimento econômico e a conservação ambiental. Algumas iniciativas merecem considerações, porque podem agravar ou desencadear problemas ambientais de diferentes ordens de grandeza.

Entre essas iniciativas e suas consequências, é INCORRETO afirmar que:

- a. () a construção de obras previstas pelo PAC (Programa de Aceleração do Crescimento) tem levado à redução dos prazos necessários aos estudos de impacto ambiental, o que pode interferir na sustentabilidade do projeto.
- b. () a construção de grandes centrais hidrelétricas nas bacias do Sudeste e do Sul gera mais impactos ambientais do que nos grandes rios da Amazônia, nos quais o volume de água, o relevo e a baixa densidade demográfica reduzem os custos da obra e o passivo ambiental.
- c. () a exploração do petróleo encontrado na plataforma submarina pelo Brasil terá, ao lado dos impactos positivos na economia e na política, consequências ambientais negativas, se persistir o modelo atual de consumo de combustíveis fósseis.
- d. () a preocupação mais voltada para a floresta e os povos amazônicos coloca em alerta os ambientalistas, ao deixar em segundo plano as ameaças aos demais biomas.

3.

Leia os gráficos:

Gráfico I:
Domínio da leitura e escrita pelos brasileiros (em %)

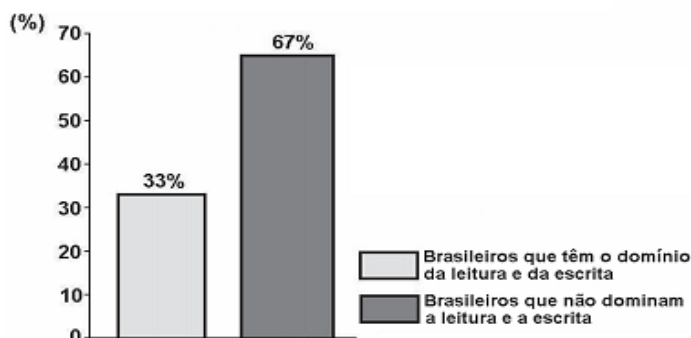
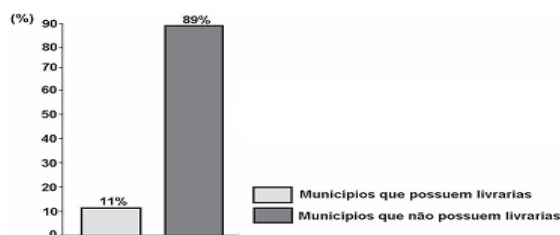


Gráfico II:
Municípios brasileiros que possuem livrarias (em %)



Indicador Nacional de Alfabetismo Funcional - INAF, 2005.

Relacione esses gráficos às seguintes informações:

O Ministério da Cultura divulgou, em 2008, que o Brasil não só produz mais da metade dos livros do continente americano, como também tem parque gráfico atualizado, excelente nível de produção editorial e grande quantidade de papel. Estima-se que 73% dos livros do país estejam nas mãos de 16% da população.

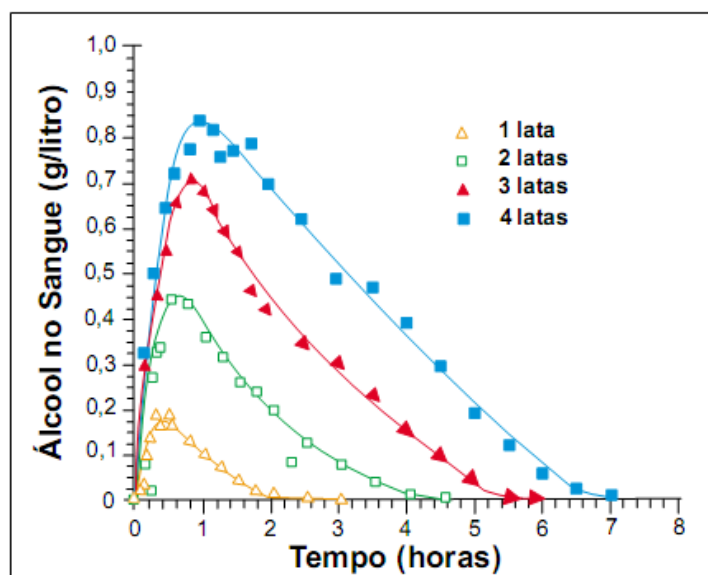
Para melhorar essa situação, é necessário que o Brasil adote políticas públicas capazes de conduzir o país à formação de uma sociedade leitora.

Qual das seguintes ações NÃO contribui para a formação de uma sociedade leitora?

- () Desaceleração da distribuição de livros didáticos para os estudantes das escolas públicas, pelo MEC, porque isso enriquece editoras e livreiros.
- () Exigência de acervo mínimo de livros, impressos e eletrônicos, com gêneros diversificados, para as bibliotecas escolares e comunitárias.

- c. () Programas de formação continuada de professores, capacitando-os para criar um vínculo significativo entre o estudante e o texto.
- d. () Programas, de iniciativa pública e privada, garantindo que os livros migrem das estantes para as mãos dos leitores.

4. A legislação de trânsito brasileira considera que o condutor de um veículo está dirigindo alcoolizado quando o teor alcoólico de seu sangue excede 0,6 gramas de álcool por litro de sangue. O gráfico abaixo mostra o processo de absorção e eliminação do álcool quando um indivíduo bebe, em um curto espaço de tempo, de 1 a 4 latas de cerveja.



(Fonte: National Health Institute, Estados Unidos)

Considere as afirmativas a seguir:

- I - O álcool é absorvido pelo organismo muito mais lentamente do que é eliminado.
- II - Uma pessoa que vá dirigir imediatamente após a ingestão da bebida pode consumir, no máximo, duas latas de cerveja.
- III - Se uma pessoa toma rapidamente quatro latas de cerveja, o álcool contido na bebida só é completamente eliminado após se passarem cerca de 7 horas da ingestão.

Está (ão) **correta(s)** a(s) afirmativa(s):

- a. () II, apenas.
- b. () I e II, apenas.
- c. () I e III, apenas.
- d. () II e III, apenas.

5. Leia a charge:



www.charges.com.br, acessado em 15 set. 2009.

Há relação entre o que é mostrado no gráfico e na charge?

- a. () Não, pois a faixa etária acima dos 18 anos é aquela responsável pela disseminação da violência urbana nas grandes cidades brasileiras.
- b. () Não, pois o crescimento do número de crianças e adolescentes que trabalham diminui o risco de sua exposição aos perigos da rua.
- c. () Sim, pois ambos se associam ao mesmo contexto de problemas socioeconômicos e culturais vigentes no país.
- d. () Sim, pois o crescimento do trabalho infantil no Brasil faz crescer o número de crianças envolvidas com o crime organizado.

CONHECIMENTOS ESPECÍFICOS

(5 questões)

6. Sobre o Caratê, assinale a alternativa INCORRETA:

- a. () Caratê é uma palavra japonesa que significa “mãos vazias”.
- b. () O método de defesa pessoal foi possivelmente originado na China, mas se desenvolveu e evoluiu no Japão, na província de Okinawa, com base em uma luta já existente na época.
- c. () Os praticantes de Caratê são denominados “caratecas”. Nas lutas, os caratecas só podem usar as armas de combates naturais, ou seja, o próprio corpo, incluindo os bons reflexos de visão e a inteligência.
- d. () O nível atingido por cada carateca é classificado através de um sistema de faixas coloridas, na seguinte ordem: branca, vermelha, laranja, amarela, verde, roxa, marrom.

7. Qual é o significado da palavra Judô?

- a. () Caminho Suave;
- b. () Luta Suave;
- c. () Caminho Leve;
- d. () Luta Leve.

8. Em relação ao Jiu-Jítsu assinale a alternativa INCORRETA:

- a. () É uma arte marcial chinesa que utiliza golpes de pressões, de alavancas e de torções, para dominar o oponente;
- b. () No Jiu-jítsu usa-se a força em alavanca, o que possibilita que um(a) lutador(a), mesmo sendo menor que o oponente, consiga vencer;
- c. () O Jiu-jítsu teve sua origem na evolução de uma arte marcial composta para designar aquelas habilidades de luta que não envolviam a utilização de armas.
- d. () As faixas cinza, amarela, branca e vermelha compõe a graduação de praticantes de Jiu-jítsu entre 4 e 15 anos.

9. Sobre o Judô assinale a alternativa INCORRETA:

- a. () O Judô é uma arte marcial esportiva e foi criado no Japão, em 1882, pelo professor de Jigoro Kano. Teve uma grande aceitação espalhando para o mundo todo, pois possui a vantagem de unir técnicas do Jiu-jítsu com outras artes marciais orientais;
- b. () As lutas de Judô são praticadas num tatame de formato quadrado (de 14 a 16 metros de lado). Cada luta dura até 10 minutos e vence quem conquistar o *ippon* primeiro. Se ao final da luta nenhum judoca conseguir o *ippon*, vence aquele que tiver mais vantagens;
- c. () O Judô feminino é esporte olímpico desde os Jogos Olímpicos de Barcelona em 1992. Nas Olimpíadas de Londres 2012 a judoca Sarah Menezes conquistou medalha de ouro para o Brasil;
- d. () A pontuação pode ser um *yuko* quando o oponente cai de lado, um *wazari* que é um *ippon* que não foi realizado com perfeição e o *ippon* quando o oponente cai com as costas no chão.

10. Em relação ao *ippon*, assinale a alternativa INCORRETA:

- a. () *Ippon* é um termo utilizado em competições de artes marciais japonesas, como o Caratê e Judô, atribuída a um golpe "perfeito";
- b. () O árbitro anunciará *ippon* quando um(a) competidor(a), com controle, conseguir projetar o adversário nitidamente sobre suas costas, com considerável força e velocidade;
- c. () No Caratê, equivale a um golpe que resulte na queda do oponente mesmo que tenha dado chance de defesa, mas que o(a) lutador(a) mostre total controle de si e do(a) adversário(a);
- d. () No Judô, significa que o golpe foi desferido de forma correta, resultando na projeção do oponente, com queda, desde que este tenha ficado com as costas por completo no tatame, ou quando sejam aplicadas imobilizações, dentro de um tempo determinado, ou pela desistência do(a) adversário(a).

_____ (destaque aqui) _____

ANOTAÇÃO DAS RESPOSTAS									
1	2	3	4	5	6	7	8	9	10